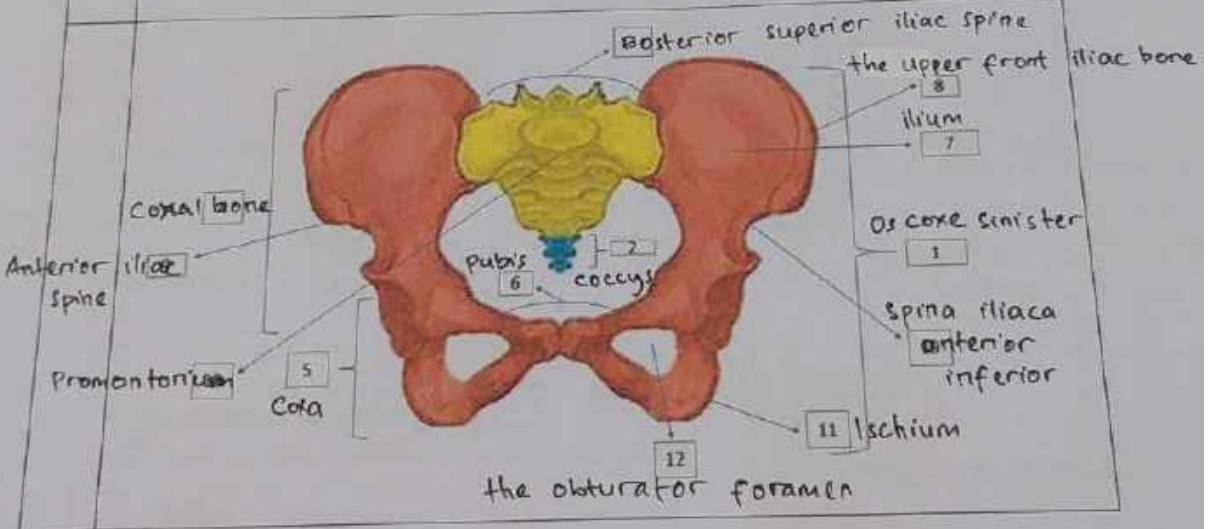
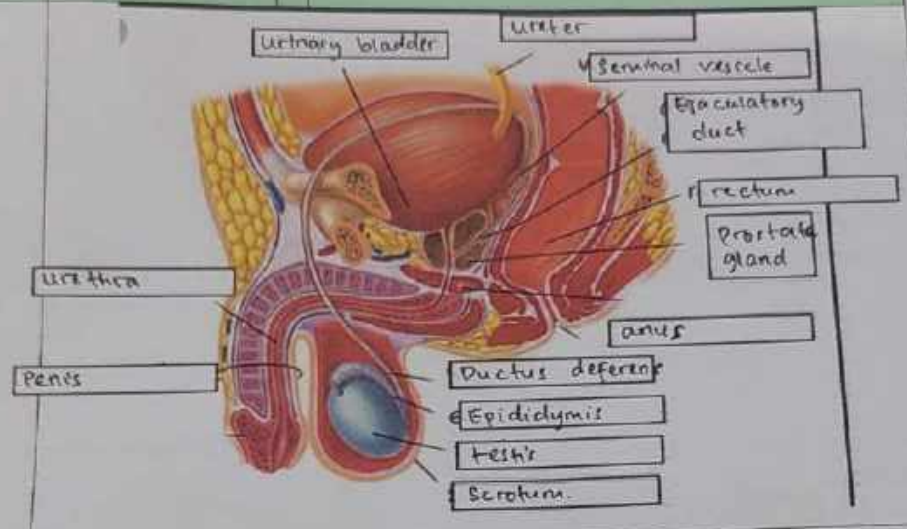


WORKSHEETS (LEMBAR KERJA)

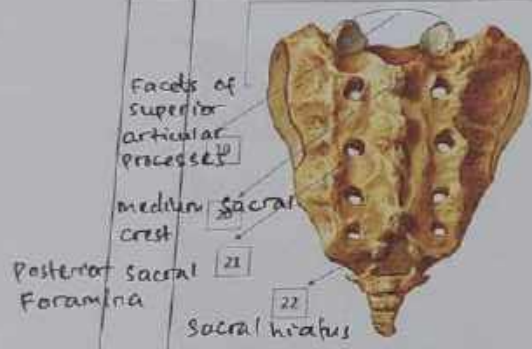
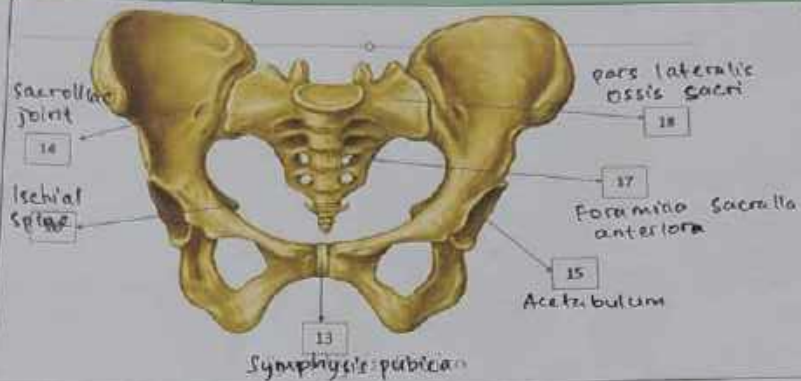
Mata Kuliah	: Anatomi
Materi	: Anatomi Reproduksi
NIM>Nama Mahasiswa	: 2110101030 / Julia Indah Cahyani.

No	Keterangan	Pembahasan
1	Ovarian artery and vein	

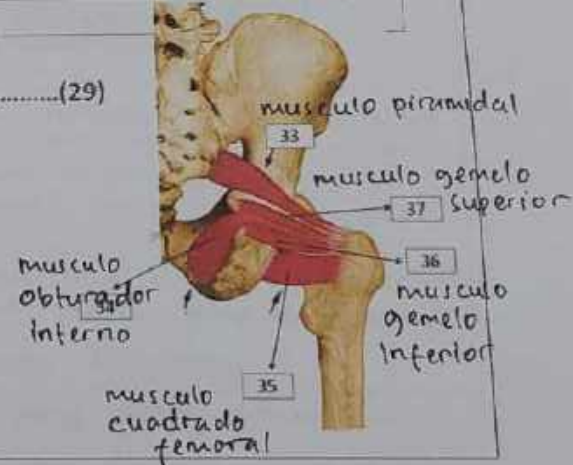
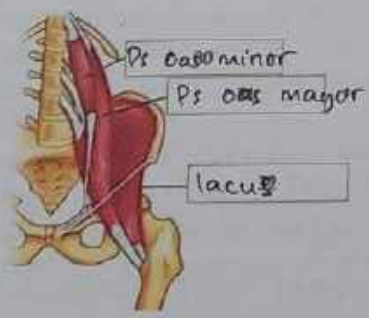
No	Keterangan	Pembahasan
----	------------	------------



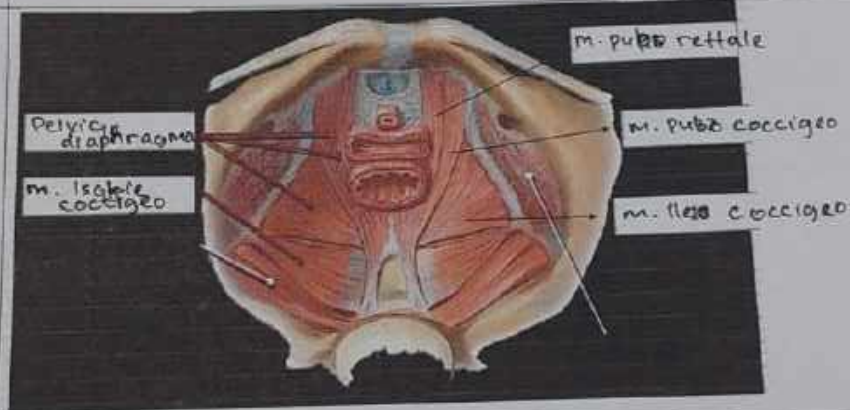
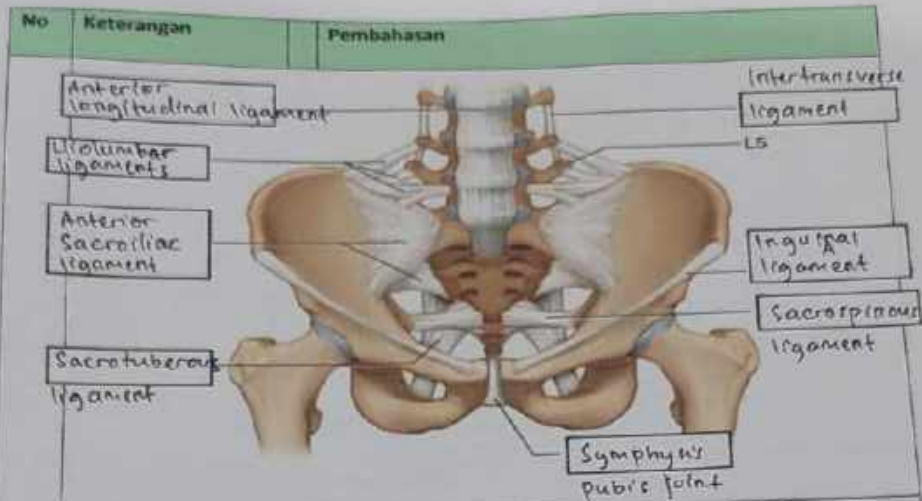
No	Keterangan	Pembahasan
----	------------	------------



• Persendian pada pelvis ..... (27), ..... (28), ..... (29)





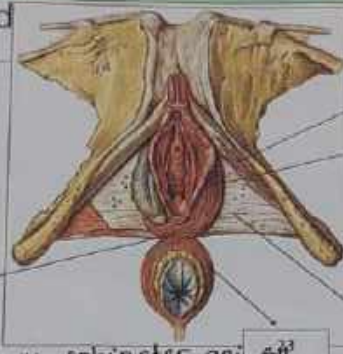


Jelaskan jenis panggul

1. Ginekoid . cenderung bulat dan terbuka . jenis panggul yg paling mudahkan persalinan . ukurannya lebih lebar dan memberi ruang cukup luas bagi pergerakan bayi .
2. Androin . lebih sempit dan bentuk seperti hati . panggul laki - laki .
3. Anthropoid merupakan panggul sempit dan dalam . bentuk seperti oval / telur . persalinan spontan tetap bisa terjadi akan tetapi perlu waktu yang lebih lama .
4. platypelloid jenis panggul yang jarang ditemukan . karena bentuknya lebar namun dangkal . seperti telur yang dibentangkan di satu sisi . persalinan bagi perempuan dengan bentuk panggul ini lebih sulit .

No	Keterangan	Pembahasan
----	------------	------------

Click to ad



Posterior/central tendon of perineum.  
19

m. ischioanalis  
20  
m. bulbospongiosus  
21  
Fascia diaphragmatis urogenitalis (ny)  
22

Sebutkan ukuran ukuran panggul dalam

Conjugata vera anatomica jarak dari pinggir atas simfisis ke promontorium adalah 11 cm.

Conjugata vera obstetrika jarak dari bagian dalam tengah simfisis ke promontorium 12,5 cm.

Conjugata diagonalis jarak bagian bawah simfisis ke promontorium. Secara statistik diketahui conjugata vera. -1,5 cm.

Diameter transversa jarak tertauh garis melintang 12,5 - 13 cm

Diameter obliqua vera ke linea terminalis 13 cm.

Ukuran panggul luar

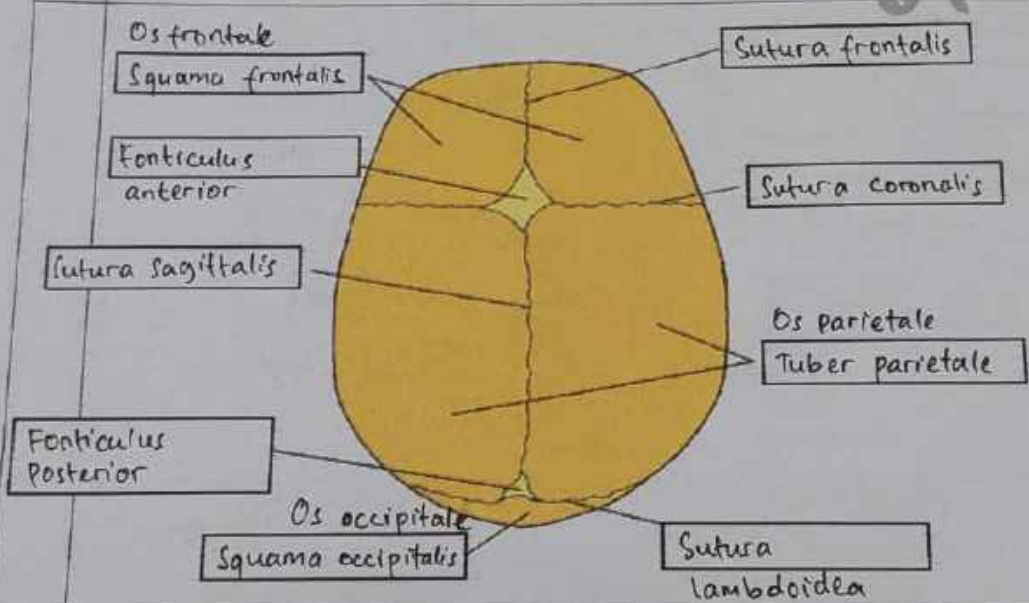
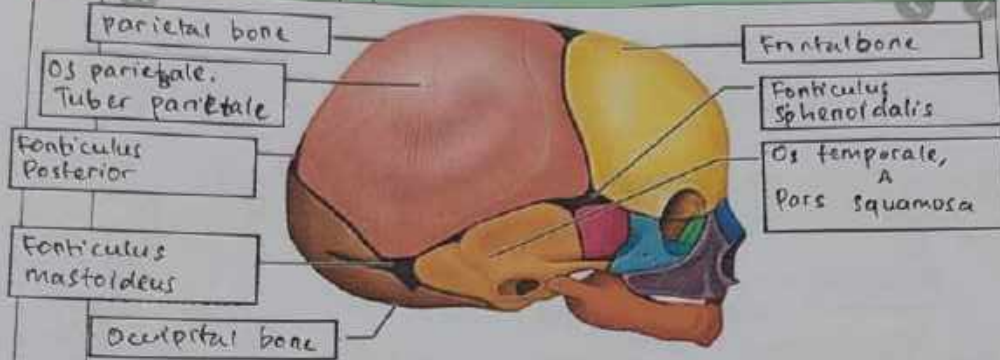
Conjugata boudelogeu 18 - 20 cm

Distansia spinarum antara kedua spina iliaca anterior superior 23 - 26 cm.

Distansia cristarum antara kedua crista iliaca kanan dan kiri 28 - 32 cm.

Distansia tuberum ± 10,5 cm

No	Keterangan	Pembahasan
----	------------	------------



Jelaskan bidang hodge

bidang khayal untuk menentukan seberapa jauh bagian depan arak tunun ke dalam rongga panggul.

Bidang Hodge terbagi menjadi :

- Hodge I sama dengan PAP
- Hodge II sama dengan sejajar hodge I melalui pinggir bawah simfisis.