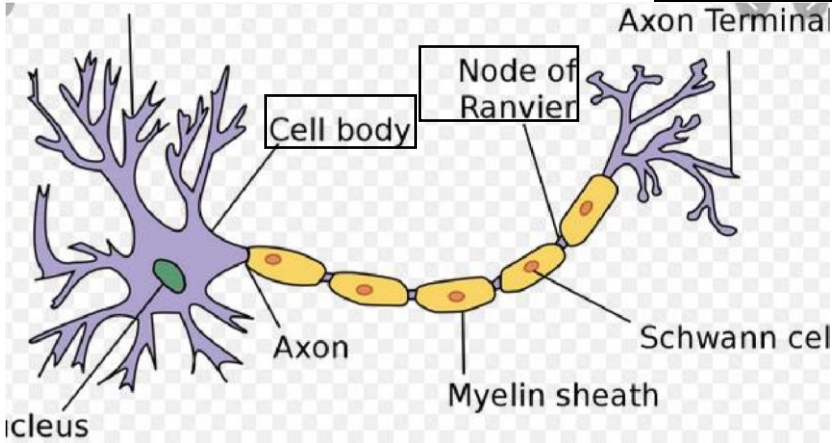
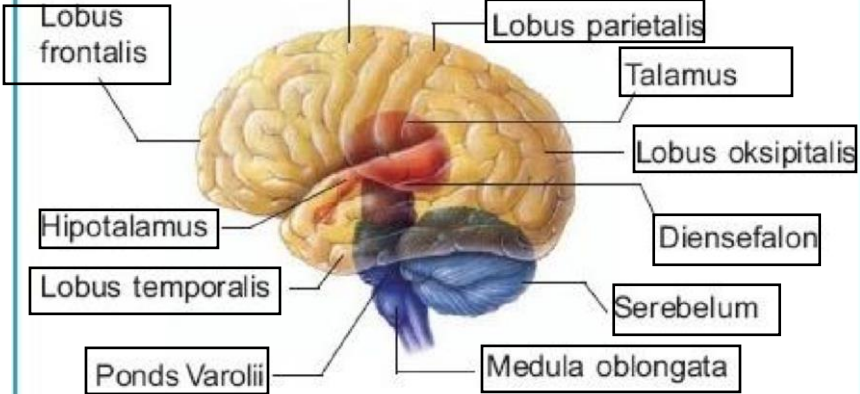
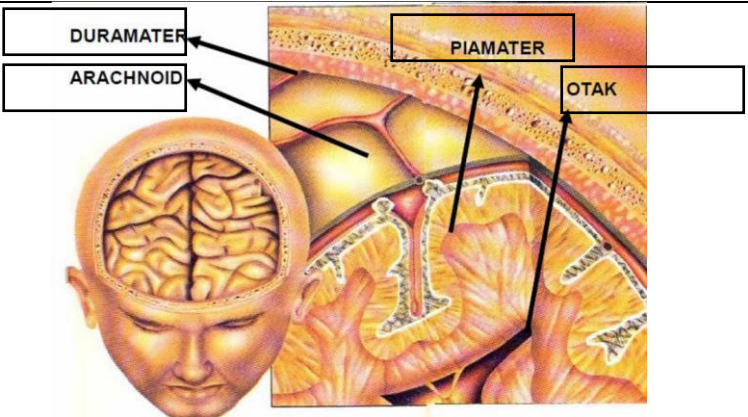
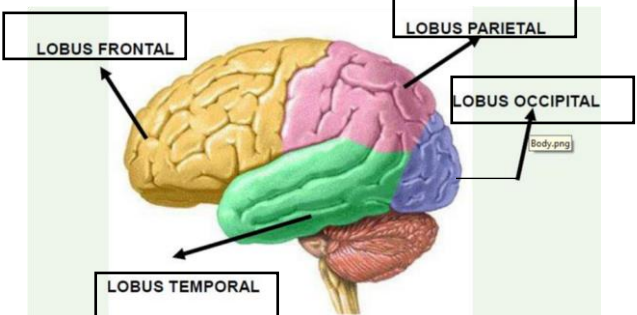


**WORKSHEETS (LEMBAR KERJA)**

<b>Mata Kuliah</b>	<b>: Anatomi</b>
<b>Materi</b>	<b>: Anatomi Syaraf</b>
<b>NIM&gt;Nama Mahasiswa</b>	<b>:2110101117/ Sani ulfa widiyana</b>

No	Keterangan	Pembahasan
1	Pembagian sistem syaraf : a) Susunan syaraf pusat  b) Susunan syaraf perifer  Sebutkan 2 jenis sel pembangun sistem persyarafan	<div style="text-align: right; border: 1px solid black; width: 100px; height: 20px; margin: 0 auto 20px auto;"></div>
		 <div style="margin-top: 20px;"> <div style="border: 1px solid black; width: 100px; height: 20px; display: inline-block; margin-right: 20px;"></div> <div style="border: 1px solid black; width: 100px; height: 20px; display: inline-block; margin-right: 20px;"></div> <div style="border: 1px solid black; width: 100px; height: 20px; display: inline-block; margin-right: 20px;"></div> </div> <div style="margin-top: 20px;"> <div style="border: 1px solid black; width: 100px; height: 20px; display: inline-block;"></div> </div>
		Otak terdiri dari .....kecil....., ..... Dan .....besar..... 4 lobus pada cerebrum adalah otak kanan dan otak kiri

No	Keterangan	Pembahasan
		
		
	Lobus otak	

No	Keterangan	Pembahasan
	